

TEST Z HUDEBNÍ NAUKY 1.POLOLETÍ

5.ROČNÍK


1)Doplň názvy not:




2) Zakroužkuj správné intervaly:



3) Doplň předznamenání nebo název stupnice:



4) Napiš stupnici H dur:



5) Napiš T⁵ a jeho obraty v A dur, na druhý řádek v a moll.



A: T⁵

A: T⁶

.....



a: T⁵

.....

a: T⁶₄

6) Doplň jak se jmenuje:

Akord na prvním stupni ve stupnici.....

Akord na čtvrtém stupni ve stupnici.....

Akord na pátém stupni ve stupnici.....


7) Napiš názvy třech komorních souborů s větším počtem hráčů:

8) Spoj čarou co patří k sobě:

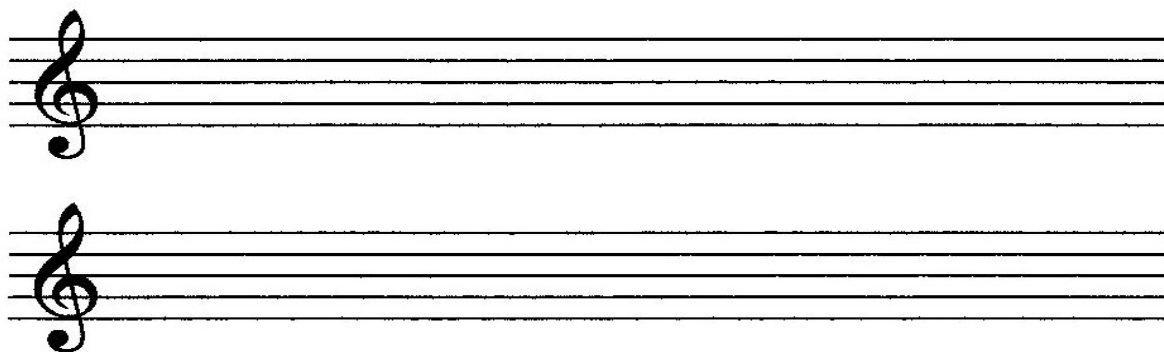
moderato	těžce	lento	rychle
vivace	mírně	allegro	rozvláčně
grave	zpomalovat	andante	zrychlovat
ritardando	živě, hbitě	accelerando	klidným chodem

9)

Oprav chyby ve stupnici e moll – harmonická.



Napiš stupnici e moll – melodickou (nahoru i dolů).



10) Jaké znáš pravěké hudební nástroje?

11) Jakým pojmem označujeme řecké a římské umění?

12) Kdo byli trubadúři a truvéři?

13) Co je to polyfonie?

14) Napiš alespoň 3 tance barokní suity:

15) Spoj čarou co patří k sobě:

**Georg Fridrich Händel
Johan Sebastian Bach
Antonio Vivaldi**

**Čtvero ročních dob
Vodní hudba
Braniborské koncerty**